

## PLAN DE TRAVAIL CE1

Mardi 2 juin

- **TEMPS** : voici le mois de juin (rappelez- vous la poésie » *juin cerise* »).

Les cerises des cerisiers sont rouges !

On fête

les **mamans (le 7 juin)**

- le **premier jour de l'été (le 20 juin)**
- les **papas** (le 21 juin ) en même temps c'est **la fête de la musique.**

Sans oublier l'anniversaire **de Clément le 4 juin.**

- **DICTEE**

**dicter les mots**

|           |          |          |
|-----------|----------|----------|
| avec      | beaucoup | comme    |
| plusieurs | très     | mais     |
| encore    | chez     | aussitôt |

**écrire 5 fois les mots mal orthographiés**


- **énigme** : trouve qui fait l'action(réponds en faisant une phrase, aide toi des mots de la question) **écris la phrase dans ton cahier bleu**

Hugo chausse ses bottes, enfile sa bombe. L'heure de sa leçon approche. Il aperçoit son moniteur tenant Mustang par la bride. Il se prépare à franchir les obstacles. Qui est Hugo ?

- **Production d'écrits :**

Ecris l'histoire correspondant à ces images sur ton cahier . Ecris au moins une phrase par image. Pense à donner un titre à ton histoire.

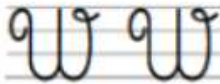
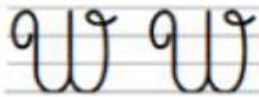
Tu peux donner un prénom au garçon . Pense à éviter les répétitions avec il... . Pense aussi à commencer tes phrases par une majuscule. Utilise des mots comme ensuite, après, puis, mais, tout à coup, finalement ...



1 – Trace le chemin dans la lettre majuscule.



2 – Repasse sur les modèles et continue.



- **Ecriture : au préalable regarder la vidéo puis faire les lignes (à coller dans le cahier rouge)**

**<https://youtu.be/Hlxl-VhUyIQ>**

- **Lecture : l'enfant de la mer pages 4 à 7**

**Regarder les illustrations des pages 4 à 7**

Emettre des hypothèses sur l'histoire

**Lire le texte p 4 à 7**

Lecture silencieuse puis orale par l'enfant

Expliquer les mots difficiles

Lecture expressive orale par l'adulte

Répondre oralement aux questions :

*Pourquoi les pêcheurs sont -ils découragés ?*

*D'où vient cet enfant ? Comment le sait-on ?*

*Pourquoi le bébé pleurerait-il d'après toi ?*

*A quoi ressemblait -il ?*

**Coller le questionnaire dans le cahier bleu**

**Répondre aux questions 3 et 5 sur les lignes du cahier bleu**



Pages 4 à 7

**1) Pourquoi les hommes de Cap de Chien sont-ils malheureux ce matin-là ?**

- Car ils ont découvert un enfant.
- Car ils rentrent sans poisson.
- Car il ne fait pas beau.

**2) Complète.**

Le long de la grève, ils ont découvert .....

**3) Qui a déposé l'enfant ?**

**4) En quoi l'enfant est-il différent des autres nouveau-nés ?**

- Sa peau chatouille mieux que celle des poissons.
- Il a une membrane transparente entre les doigts de ses mains.
- Il est tout nu.
- Il a la peau argentée.
- Il pleure.
- Il a les poings serrés.

**5) Pourquoi l'endroit s'appelle Cap de Chien ?**

.....

- **Maths :**
- **Géométrie : révision : les solides**

**Ex 4 p 143 fichier de maths**

- **Calcul mental : construire la table x 3**


La compléter et la coller dans le cahier de maths (onglet calcul).

Apprendre par cœur la table dans l'ordre puis faire les exercices à coller dans le cahier bleu.


Pour le problème 3, penser à l'opération et à la phrase réponse.

## La table x 3

*Complète les opérations pour indiquer le nombre de poissons :*



... + ... + ... + ... = .....    *Il y a ...*  
ou ..... X ..... = .....    *poissons.*



... + ... + ... + ... + ... + ... = .....  
ou ..... X ..... = .....

*Il y a ... poissons.*

|                     |                 |
|---------------------|-----------------|
| <b>Table du 3 :</b> | <b>5 × 3 =</b>  |
| <b>0 × 3 =</b>      | <b>6 × 3 =</b>  |
| <b>1 × 3 =</b>      | <b>7 × 3 =</b>  |
| <b>2 × 3 =</b>      | <b>8 × 3 =</b>  |
| <b>3 × 3 =</b>      | <b>9 × 3 =</b>  |
| <b>4 × 3 =</b>      | <b>10 × 3 =</b> |

1 Ecris la multiplication correspondante et calcule:



$$\_ \times \_ = \_$$



$$\_ \times \_ = \_$$



$$\_ \times \_ = \_$$



$$\_ \times \_ = \_$$

2 Calcule :

$$3 \times 5 = \_$$

$$3 \times 1 = \_$$

$$3 \times 3 = \_$$

$$3 \times 4 = \_$$

$$3 \times 0 = \_$$

$$3 \times 7 = \_$$

$$3 \times 8 = \_$$

$$3 \times 9 = \_$$

$$3 \times 10 = \_$$

$$3 \times 6 = \_$$

$$3 \times 2 = \_$$

$$3 \times 20 = \_$$

Problème :

Pour faire un gâteau, il faut 3 œufs.  
Pour l'anniversaire de Marion, Maman doit faire 4 gâteaux.  
De combien d'œufs a-t-elle besoin?

### Devoirs pour jeudi

- Entraîne -toi pour retenir la table x3 : <https://learningapps.org/9617922>
- Commencer à apprendre la phrase pour l'autodictée de lundi

Ce matin-là, les hommes de Cap de Chien n'étaient pas -  
heureux.

- Commencer à apprendre la poésie pour la fête des mamans et des papas  
Je te laisse l'apprendre à ton rythme  
Tu pourras la recopier sur une carte (je te joins un modèle mais tu peux  
en trouver d'autres si cela ne te plait pas)

*Bon courage maitresse*