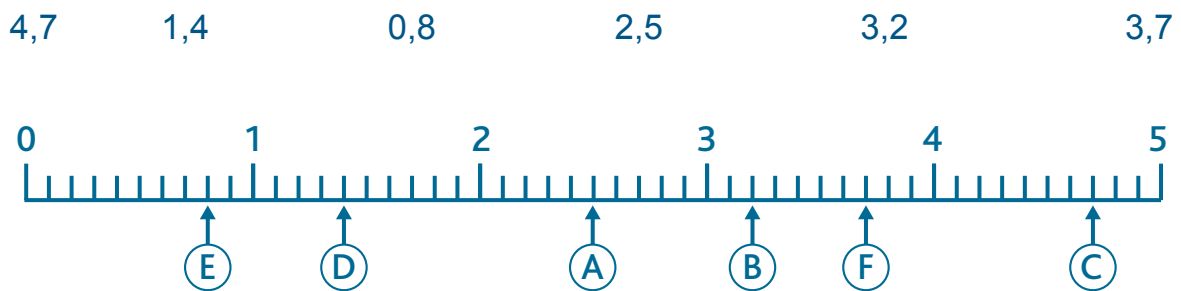


Prénom : .....

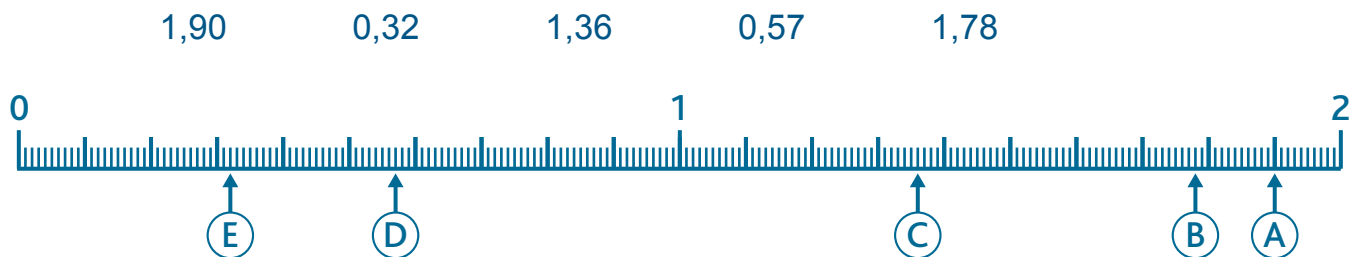
Date : .....

## Placer, intercaler et encadrer des nombres décimaux

1. Sous chaque lettre, écris le nombre décimal correspondant.



2. Sous chaque lettre, écris le nombre décimal correspondant.



3. Complète avec les nombres de l'exercice 1.

$1 < \dots < 2$        $2 < \dots < 3$        $0 < \dots < 1$

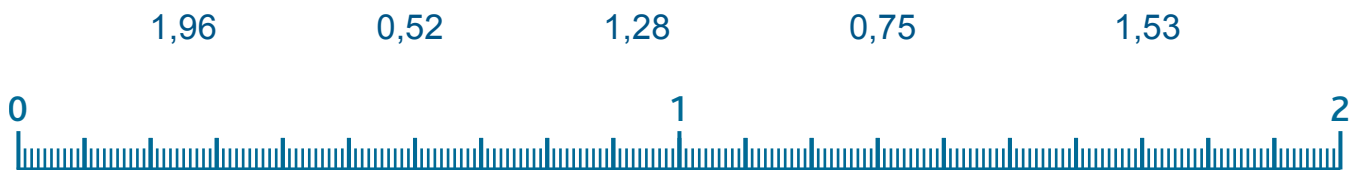
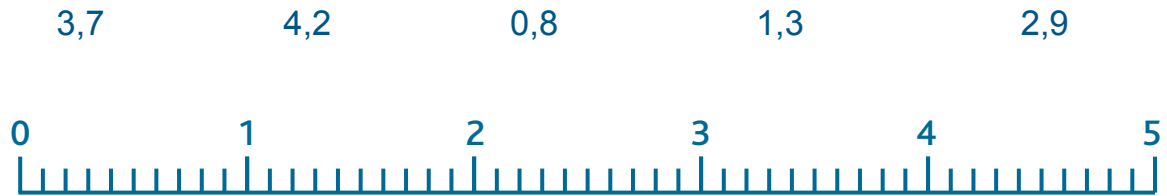
$3 < \dots < 4$        $3 < \dots < 4$        $4 < \dots < 5$

4. Quels nombres de l'exercice 2 s'intercalent :

– entre 0 et 1 ? .....

– entre 1 et 2 ? .....

5. À ton tour, place ces nombres sur les droites.



6. Complète ces encadrements avec des nombres entiers. Aide-toi de l'exercice 5.

..... < 0,52 < .....

..... < 2,9 < .....

..... < 0,75 < .....

..... < 1,28 < .....

..... < 3,7 < .....

..... < 0,8 < .....

7. Encadre au dixième près.

..... < 0,52 < .....

..... < 2,8 < .....

..... < 0,75 < .....

..... < 1,28 < .....

..... < 3,72 < .....

..... < 0,93 < .....