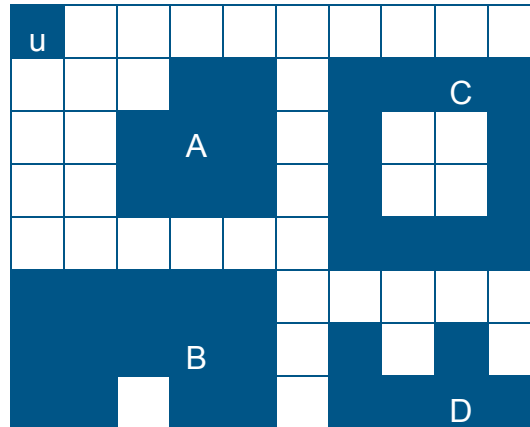


Prénom : Date :

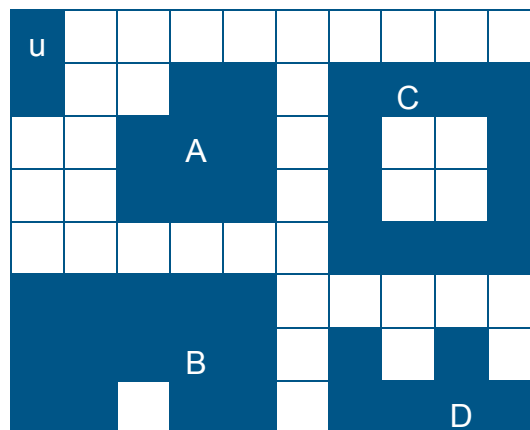
Découvrir la notion d'aire

1. Exprime l'aire de chaque surface avec l'unité proposée. Quelle est la plus grande ?



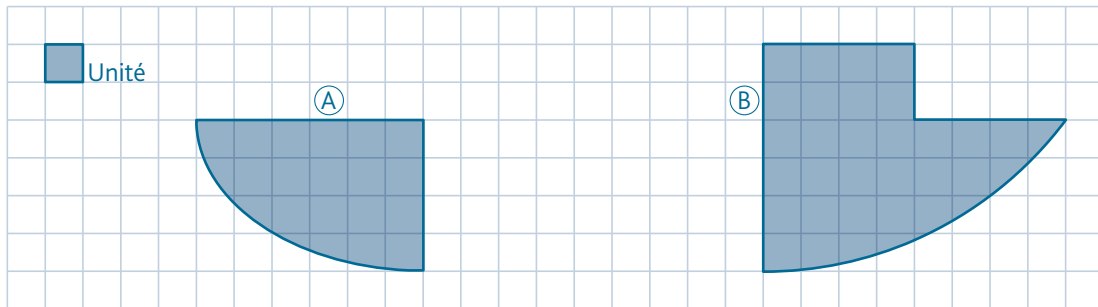
Aire de la figure **A** = Aire de la figure **C** =
 Aire de la figure **B** = Aire de la figure **D** =

2. Exprime l'aire de chaque surface avec l'unité proposée. Que remarques-tu ?



Aire de la figure **A** = Aire de la figure **C** =
 Aire de la figure **B** = Aire de la figure **D** =

3. Estime l'aire de ces figures. Quelle est la plus petite ?



Aire de la figure A =

Aire de la figure B =

.....

4. Trace deux figures A et B qui n'auront pas la même forme mais qui auront la même aire.

