


Prénom : Date :

Percevoir et reconnaître l'axe de symétrie d'une figure

1. Repère le ou les groupe(s) d'images qui ont un axe de symétrie et entoure-le(s).


A




B



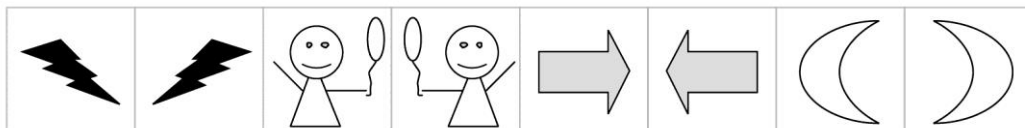
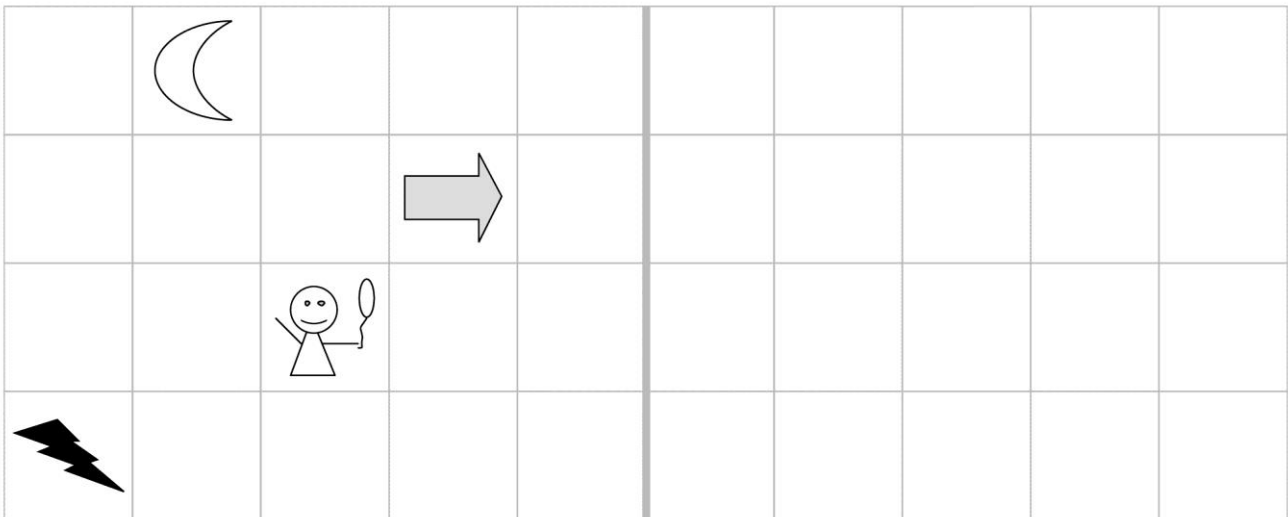
C



D



2. Colle les images de façon symétrique par rapport à l'axe. Attention, il y a des intrus !



3. Entoure les lettres qui ont au moins un axe de symétrie.

A B C F G H U V L

4. Entoure les lettres qui ont au moins un axe de symétrie.

M N P Q R S T J K

5. Entoure les figures qui ont au moins un axe de symétrie.

