

1 Écris les nombres dictés.

a  b  c  d  e  f  g  h


---

2 Écris les réponses aux questions posées par le maître ou la maîtresse.

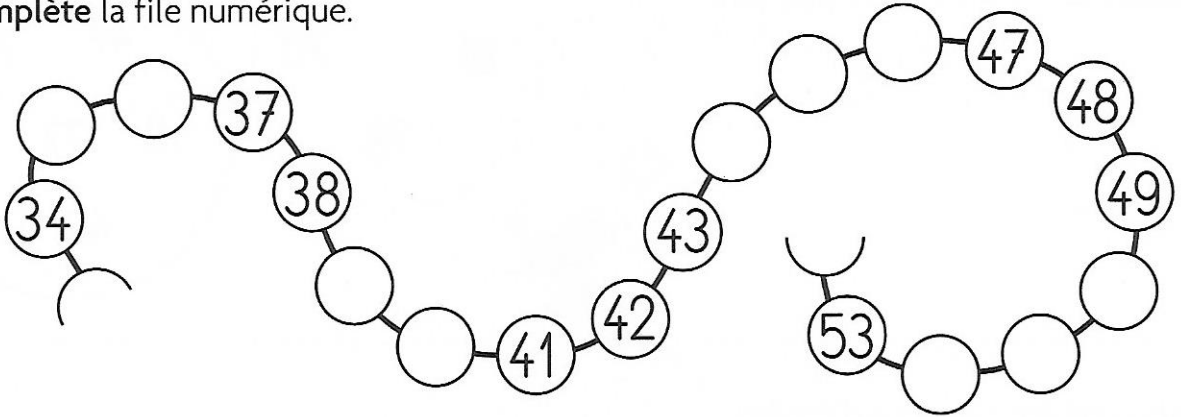
a  b  c  d  e  f  g  h

---


3 Écoute bien l'histoire lue par le maître ou la maîtresse.  
Écris la réponse pour chaque personnage.



4 Complète la file numérique.



5 Complète.




6 Complète.



7 Complète.

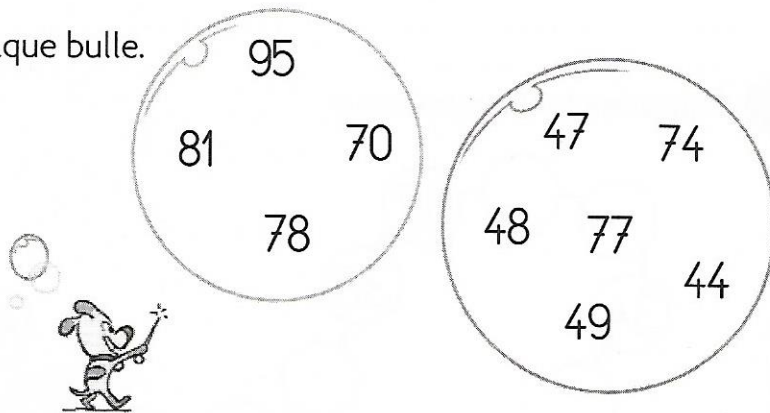
$6 + 5 = \dots\dots\dots$	$5 - 2 = \dots\dots\dots$	$10 - \dots\dots\dots = 8$	$10 - 2 = \dots\dots\dots$
$7 - 4 = \dots\dots\dots$	$8 - 3 = \dots\dots\dots$	$3 + \dots\dots\dots = 10$	$5 + \dots\dots\dots = 10$

8 Écris le nombre de timbres d'Arthur.




Arthur a ..... timbres.

9 Entoure le plus grand nombre de chaque bulle. Dessine une croix sous le plus petit.



10 Écris combien chacun a d'étoiles.



Mes étoiles  
◆  
1 dizaine et 15 unités

Loé a ..... étoiles.



Mes étoiles  
◆  
4 dizaines et 10 unités

Arthur a ..... étoiles.

11 Combien de croissants le pâtissier a-t-il vendus?



Le pâtissier a vendu ..... croissants.

.....


12 Utilise l'unité violette de ton cahier.  
Écris la longueur de la bande.



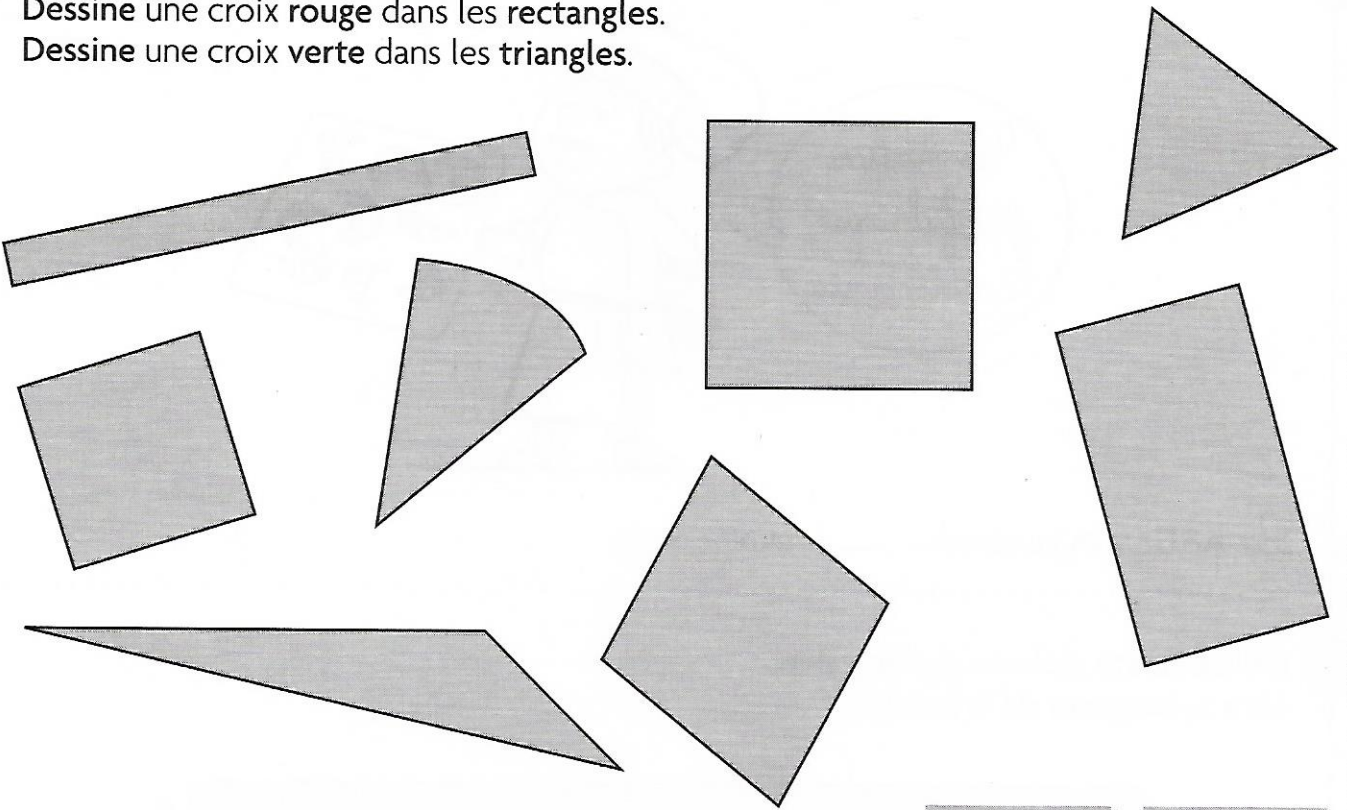
La bande a mesure ..... unités.

.....

13 Trace avec la règle un chemin pour aider Gribouille à rejoindre son os.  
Il doit suivre les traits du quadrillage et tourner aux nœuds.  
Il doit éviter Nestor.



- 14 Dessine une croix bleue dans les carrés.  
 Dessine une croix rouge dans les rectangles.  
 Dessine une croix verte dans les triangles.



- 15 Réponds aux questions que le maitre ou la maitresse pose.
- Le premier dimanche du mois de février est le .....
  - Le premier jour du mois de janvier est un .....
  - Le 18 janvier est un .....
  - Combien de jours a le mois de février? .....

JANVIER		FÉVRIER	
1	LU	1	JE
2	MA	2	VE
3	ME	3	SA
4	JE	4	DI
5	VE	5	LU
6	SA	6	MA
7	DI	7	ME
8	LU	8	JE
9	MA	9	VE
10	ME	10	SA
11	JE	11	DI
12	VE	12	LU
13	SA	13	MA
14	DI	14	ME
15	LU	15	JE
16	MA	16	VE
17	ME	17	SA
18	JE	18	DI
19	VE	19	LU
20	SA	20	MA
21	DI	21	ME
22	LU	22	JE
23	MA	23	VE
24	ME	24	SA
25	JE	25	DI
26	VE	26	LU
27	SA	27	MA
28	DI	28	ME
29	LU		
30	MA		
31	ME		