

Jeudi 4 juin CP

Écriture : page du 4/6

Lecture : production d'écrits

1) relis l'album p 6

2) A l'oral :

Quelle est l'intention du prince aîné ?

Imagine ce qu'il dit à ses deux frères.

Imagine ce que se disent les fourmis qui l'entendent et se sauvent apeurées

3) Fais la page 50 du fichier

Écris sur l'ardoise les paroles de la première fourmi, demande à un adulte de corriger avant de recopier sur le fichier.

Fais la même chose pour les 2 autres fourmis, attention, il faut trouver des paroles différentes pour chaque fourmi.

Maths :

1) Calcul mental : Ajout et retrait de dizaines

$40 + 20$

$30 + 30$

$50 + 20$

$60 + 10$

$50 - 20$

$60 - 40$

$40 - 10$

$50 - 40$

2) Dictée de nombres sur l'ardoise

58 60 64 70 71 74

3) Lecture de l'heure

Relis la synthèse :

Quand la grande aiguille est sur le 12, la petite aiguille est forcément en face d'une graduation qui indique l'heure.

Par exemple : Si la grande aiguille est sur le 12 et la petite sur le 7 : il est 7 heures


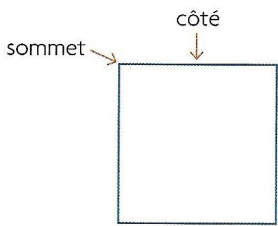
Fais les ex 1 et 2 du cahier de géométrie p 40

4) Les formes géométriques

Rappel des caractéristiques du carré et du rectangle :

15 Reconnaître un carré



Un carré a 4 côtés et 4 sommets.
Les 4 côtés ont même longueur.



Toutes ces figures sont des carrés.

16 Reconnaître un rectangle

Un rectangle a 4 côtés et 4 sommets.
Les côtés qui se font face ont même longueur.



Toutes ces figures sont des rectangles.

Voici 2 vidéos à regarder avant de faire les exercices

<https://lesfondamentaux.reseau-canope.fr/discipline/mathematiques/geometrie-du-plan/carres/tracer-un-carre.html>

<https://lesfondamentaux.reseau-canope.fr/discipline/mathematiques/geometrie-du-plan.html>

Fais les ex 3 et 4 du cahier de géométrie p 40

Devoirs :

Lecture : relire l'album p 2 à 7

Maths revoir la synthèse sur l'heure et les caractéristiques des formes