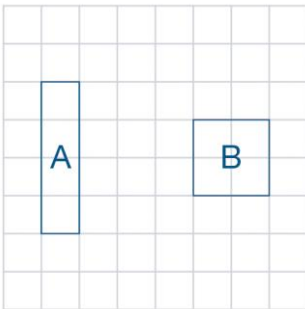


Prénom : ..... Date : .....

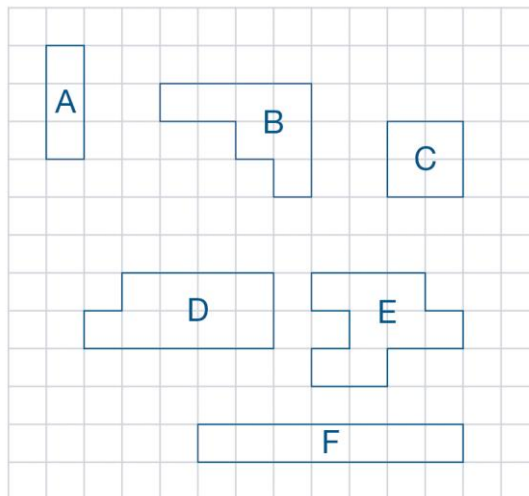
## Calculer le périmètre d'un polygone

1. Quelle figure a le plus grand périmètre ?




.....  
 .....  
 .....

2. Colorie de la même couleur les figures qui ont le même périmètre.



3. Trace deux nouvelles figures qui ont le même périmètre que celle-ci mais pas la même forme.



4. Mesure les côtés de ce polygone et calcule son périmètre en centimètres.



.....

.....

5. À Noël, Mona veut installer une guirlande autour de sa fenêtre de salon. Cette fenêtre mesure 1 mètre de haut et 2 mètres de large. **Quelle longueur de guirlande est nécessaire pour décorer la fenêtre ?**

.....

.....